


姓名	莫凱琳 (12)	課次	14 對稱圖形(一) 15 對稱圖形(二)
班別	4(A) / B/C	日期	6 月 17 日

(一) 在日常生活中有很多物件均以對稱圖形為設計的圖案，你能搜集最少五幅對稱圖形嗎？請把它們貼在下面，並用虛線畫出這些圖形的對稱軸。




評一評：

評估項目	同學互評			教師評分
	有待改善	表現一般	表現滿意	
知識	1. 能辨別出日常生活中的軸對稱圖形	☺	☺☺	☺☺☺
	2. 能正確地畫出軸對稱圖形的對稱軸	☺	☺☺	☺☺☺
技能和態度	1. 能夠適當地搜集所需資料	☺	☺☺	☺☺☺
	2. 能夠有條理地作記錄	☺	☺☺	☺☺☺
同學簽署： <i>Lin</i>				批改日期： 22/6

姓名	蘇康翹 (20)	課次	14 對稱圖形(一) 15 對稱圖形(二)
班別	4 A / B / C	日期	6 月 19 日

(一) 在日常生活中有很多物件均以對稱圖形為設計的圖案，你能搜集最少五幅對稱圖形嗎？請把它們貼在下面，並用虛線畫出這些圖形的對稱軸。




評一評：

評估項目		同學互評			教師評分
		有待改善	表現一般	表現滿意	
知識	1. 能辨別出日常生活中的軸對稱圖形	☺	☺☺	☺☺☺☺	☺☺☺
	2. 能正確地畫出軸對稱圖形的對稱軸	☺	☺☺	☺☺☺☺	☺☺☺
技能和態度	1. 能夠適當地搜集所需資料	☺	☺☺	☺☺☺☺	☺☺☺
	2. 能夠有條理地作記錄	☺	☺☺	☺☺☺☺	☺☺☺
		同學簽署： 余青寧			批改日期： 22/6



姓名	莫家俊 (23)	課次	14 對稱圖形(一) 15 對稱圖形(二)
班別	4A/B/C	日期	6月 15日

(一) 在日常生活中有很多物件均以對稱圖形為設計的圖案，你能搜集最少五幅對稱圖形嗎？請把它們貼在下面，並用虛線畫出這些圖形的對稱軸。



評一評：

評估項目		同學互評			教師評分
		有待改善	表現一般	表現滿意	
知識	1. 能辨別出日常生活中的軸對稱圖形	☺	☺☺	☺☺☺	☺☺☺
	2. 能正確地畫出軸對稱圖形的對稱軸	☺	☺☺	☺☺☺	☺☺☺
技能和態度	1. 能夠適當地搜集所需資料	☺	☺☺	☺☺☺	☺☺☺
	2. 能夠有條理地作記錄	☺	☺☺	☺☺☺	☺☺☺
		同學簽署： Pica			批改日期： 19/6