
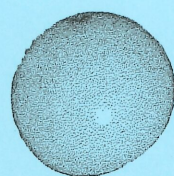


姓名	劉靄奇 (14)	課次	平面圖形
班別	1 (A/B/C)	日期	6月19日

從報章、雜誌中剪出最少四個平面圖形，並貼在下面，然後寫出該平面圖形的名稱。



六邊形



三角形



圓形



四邊形

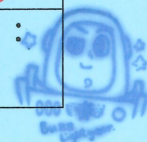


四邊形



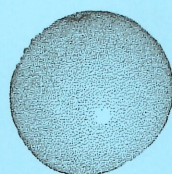

互相評一評：

評估項目	同學的表現			教師評分
	有待改善	表現一般	表現滿意	
知識	1. 能分辨出不同的平面圖形	☺	☺☺	☺☺☺
	2. 能寫上正確的名稱	☺	☺☺	☺☺☺
技能和態度	1. 能夠適當地搜集所需資料	☺	☺☺	☺☺☺
	2. 能夠有條理地作記錄	☺	☺☺	☺☺☺
		同學簽署：盧若淇		批改日期：6



姓名	余卓嵐 (30)	課次	平面圖形
班別	1 A/B/C	日期	6月19日

從報章、雜誌中剪出最少四個平面圖形，並貼在下面，然後寫出該平面圖形的名稱。



長方形 ✓



正方形 ✓



圓形 ✓



三角形 ✓



互相評一評：

評估項目	同學的表現			教師評分
	有待改善	表現一般	表現滿意	
知識	1. 能分辨出不同的平面圖形	☺	☺☺	☺☺☺
	2. 能寫上正確的名稱	☺	☺☺	☺☺☺
技能和態度	1. 能夠適當地搜集所需資料	☺	☺☺	☺☺☺
	2. 能夠有條理地作記錄	☺	☺☺	☺☺☺
		同學簽署：孔允祺		批改日期：23/6