





姓名	陳頌謙 (1)	課次	14 對稱圖形(一) 15 對稱圖形(二)
班別	4 A/B/C	日期	5月5日

(一) 在日常生活中有很多物件均以對稱圖形為設計的圖案，你能搜集最少五幅對稱圖形嗎？請把它們貼在下面，並用虛線畫出這些圖形的對稱軸。



U good!

互相評一評：

評估項目	同學的表現			
	有待改善	表現一般	表現滿意	
知識	1. 能辨別出日常生活中的軸對稱圖形	☺	☺☺	☺☺☺
	2. 能正確地畫出軸對稱圖形的對稱軸	☺	☺☺	☺☺☺
技能和態度	1. 能夠適當地搜集所需資料	☺	☺☺	☺☺☺
	2. 能夠有條理地作記錄	☺	☺☺	☺☺☺

同學簽署： 岑天中

教師批改 (圈出適用者)	☺	☺☺	☺☺☺	批改日期 5/5
-----------------	---	----	-----	-------------

姓名	柯焯喬 (23)	課次	12 小數的認識(一) 13 小數的認識(二)
班別	4 A / B / C	日期	4月 18日

(一) 小數在日常生活中被廣泛應用，你能搜集至少四張有關小數的標籤或單據嗎？請把它們貼在下面，在每張單據上選一個小數及間線，並寫出它們的讀法。

例：

單據
XXXXX
XXXXX
XXXXX
總價：\$62.3

讀作：六十二點三元




讀作：三十點五元



讀作：三點二元

Dehumidifying Capacity (litre/day) 抽濕量(公升/天)	14.72
Energy Factor (litre/kWh) 能源效率(公升/千瓦小時)	1.94
Dehumidifier Brand 抽濕機品牌:	Carrier
Model 型號:	DC-26CA

讀作：十四點七二公升



讀作：十八點五元

互相評一評：

評估項目		同學的表現		
		有待改善	表現一般	表現滿意
知識	1. 能辨別出日常生活中的小數	☺	☺☺	☺☺☺
	2. 能正確地寫出小數的讀法	☺	☺☺	☺☺☺
技能和態度	1. 能夠適當地搜集所需資料	☺	☺☺	☺☺☺
	2. 能夠有條理地作記錄	☺	☺☺	☺☺☺

同學簽署：陳諾軒

教師批改 (圈出適用者)	☺	☺☺	☺☺☺	批改日期	26/4
--------------	---	----	-----	------	------