

姓名	周天霆 (6)	課題	五位數
班別	3 (A)/B/C	日期	10月9日

請搜集四件物品，它們的售價是五位數的，將物品的圖片和價錢貼在下面，並寫出它的讀法。然後將它們的售價由大至小排列出來。




售價：\$ 36800

讀法：三萬六千八百




售價：\$ 14800

讀法：一萬四千八百



售價：\$ 11980

讀法：一萬一千九百八十



售價：\$ 10380

讀法：一萬零三百八十

排列物品的價格：(寫出售價)





\$ 36800 > \$ 14800 > \$ 11980 > \$ 10380  
 (最大) (最小)

評一評：

評估項目		同學互評			教師評分
		有待改善	表現一般	表現滿意	
知識	1. 能寫出各物件的價錢及讀法	☺	☺☺	☺☺☺☺	☺☺☺
	2. 能按大小排列各個價值	☺	☺☺	☺☺☺☺	☺☺☺
技能和態度	1. 能夠適當地搜集所需資料	☺	☺☺	☺☺☺☺	☺☺☺
	2. 能夠有條理地作記錄	☺	☺☺	☺☺☺☺	☺☺☺
		同學簽署： <u>區永健</u>			批改日期： <u>14/10</u>

姓名	陳諾謙 (3)	課題	五位數
班別	3 A/B/C	日期	10月10日

請搜集四件物品，它們的售價是五位數的，將物品的圖片和價錢貼在下面，並寫出它的讀法。然後將它們的售價由大至小排列出來。

<p>947568 <b>HERBERT</b> 三座位電動雙彈簧 真皮梳化 2,184W x 990 / 1,524D x 990Hmm \$14,199 <b>\$12,199</b></p>  <p>售價：\$ <u>12199</u> ✓ 讀法：<u>一萬二千一百九十九</u> ✓</p>	<p>943846 <b>BASIL</b> 三座位電動雙彈簧 真皮梳化 2,133W x 1,016 / 1,651D x 1,016Hmm 卡其色/白色/啡色 \$14,399 <b>\$12,599</b></p>  <p>售價：\$ <u>12599</u> ✓ 讀法：<u>一萬二千五百九十九</u> ✓</p>
<p>多種顏色可選 \$16,599 <b>\$13,999</b></p>  <p>售價：\$ <u>13999</u> ✓ 讀法：<u>一萬三千九百九十九</u> ✓</p>	<p>多種顏色可選 可選左/右貴妃 \$13,799 <b>\$11,999</b></p>  <p>售價：\$ <u>11999</u> ✓ 讀法：<u>一萬一千九百九十九</u> ✓</p>

排列物品的價格：(寫出售價)

\$ 13999 > \$ 12599 > \$ 12199 > \$ 11999  
(最大) ✓ ✓ ✓ (最小) ✓

評一評：

評估項目		同學互評			教師評分
		有待改善	表現一般	表現滿意	
知識	1. 能寫出各物件的價錢及讀法	☺	☺☺	☺☺☺	☺☺☺
	2. 能按大小排列各個價值	☺	☺☺	☺☺☺	☺☺☺
技能和態度	1. 能夠適當地搜集所需資料	☺	☺☺	☺☺☺	☺☺☺
	2. 能夠有條理地作記錄	☺	☺☺	☺☺☺	☺☺☺
		同學簽署： <u>錢可欣</u>			批改日期： <u>12/10</u>

