


姓名	木木 玥 (15)	課題	三角形
班別	3 (A/B/C)	日期	3月 19日

在日常生活中，有什麼東西和三角形有關？試從報章、雜誌或互聯網中搜集圖片或利用相機拍攝照片，貼在下面的空格內。

這是 羅浮宮，當中包含了 9 個三角形。

(用不同的顏色把圖中所有的三角形畫出來。)



這是 飯團，當中包含了 7 個三角形。

(用不同的顏色把圖中所有的三角形畫出來。)



評一評：

評估項目	同學的表現			教師評分	
	有待改善	表現一般	表現滿意		
知識	1. 能辨別出日常生活中的三角形	☺	☺☺	☺☺☺	☺☺☺
	2. 能正確地數出三角形的數量	☺	☺☺	☺☺☺	☺☺☺
技能和態度	1. 能夠適當地搜集所需資料	☺	☺☺	☺☺☺	☺☺☺
	2. 能夠有條理地作記錄	☺	☺☺	☺☺☺	☺☺☺
同學簽署：				批改日期： 24/3	

姓名	鄧家行 (24)	課題	三角形
班別	3 A/B/C	日期	4月23日

在日常生活中，有什麼東西和三角形有關？試從報章、雜誌或互聯網中搜集圖片或利用相機拍攝照片，貼在下面的空格內。

這是 一輛單車，當中包含了 兩 個三角形。
 (用不同的顏色把圖中所有的三角形畫出來。)



這是 一個腳架，當中包含了 四 個三角形。
 (用不同的顏色把圖中所有的三角形畫出來。)



評一評：

評估項目		同學的表現			教師評分
		有待改善	表現一般	表現滿意	
知識	1. 能辨別出日常生活中的三角形	☺	☺☺	☺☺☺	☺☺☺
	2. 能正確地數出三角形的數量	☺	☺☺	☺☺☺	☺☺☺
技能和態度	1. 能夠適當地搜集所需資料	☺	☺☺	☺☺☺	☺☺☺
	2. 能夠有條理地作記錄	☺	☺☺	☺☺☺	☺☺☺
		同學簽署：			批改日期：

好的例子 ☺ 三角形的穩定性


令它經常出現在生活的物件中!

2614


姓名	簡雅婷 (13)	課題	三角形
班別	3 A/B/C	日期	4 月 16 日

在日常生活中，有什麼東西和三角形有關？試從報章、雜誌或互聯網中搜集圖片或利用相機拍攝照片，貼在下面的空格內。

這是 掃帚，當中包含了 3 個三角形。
 (用不同的顏色把圖中所有的三角形畫出來。)



這是 單車，當中包含了 2 個三角形。
 (用不同的顏色把圖中所有的三角形畫出來。)



評一評：

評估項目	同學的表現			教師評分
	有待改善	表現一般	表現滿意	
知識	1. 能辨別出日常生活中的三角形	☺	☺☺	☺☺☺
	2. 能正確地數出三角形的數量	☺	☺☺	☺☺☺
技能和態度	1. 能夠適當地搜集所需資料	☺	☺☺	☺☺☺
	2. 能夠有條理地作記錄	☺	☺☺	☺☺☺
		同學簽署：		批改日期： 20/4

