

姓名	蘇亦玟 (26)	課題	奇數和偶數 1-10
班別	1 A/B/C	日期	10 月 30 日

從報章、雜誌中剪出一些物件的圖片貼在下面適當的方格內，並用阿拉伯數字寫出物件的數量。

奇數	偶數 
 1 ✓	例子：  6
 3 ✓	 2 ✓
 5 ✓	 4 ✓
 7 ✓	 8 ✓



互相評一評：

評估項目	同學互評			教師評分
	有待改善	表現一般	表現滿意	
知識	1. 能夠數出物件正確的數量。	☺	☺☺	☺☺☺
	2. 能夠分辨奇數和偶數。	☺	☺☺	☺☺☺
技能和態度	1. 能夠適當地搜集所需資料	☺	☺☺	☺☺☺
	2. 能夠有條理地作記錄	☺	☺☺	☺☺☺
同學簽署：				批改日期： 2/10

姓名	姜翠兒 (12)	課題	奇數和偶數 1-10
班別	1 (A)/B/C	日期	9 月 30 日

從報章、雜誌中剪出一些物件的圖片貼在下面適當的方格內，並用阿拉伯數字寫出物件的數量。

奇數	偶數
 <p>1 ✓</p>	<p>例子：</p>  <p>6</p>
 <p>3 ✓</p>	 <p>2 ✓</p>
 <p>5 ✓</p>	 <p>2 ✓</p>
	 <p>4 ✓</p>
	 <p>12 ✓</p>





互相評一評：

評估項目	同學互評			教師評分
	有待改善	表現一般	表現滿意	
知識	1. 能夠數出物件正確的數量。	☺	☺☺	☺☺☺
	2. 能夠分辨奇數和偶數。	☺	☺☺	☺☺☺
技能和態度	1. 能夠適當地搜集所需資料	☺	☺☺	☺☺☺
	2. 能夠有條理地作記錄	☺	☺☺	☺☺☺
同學簽署：藍雅香				批改日期：5/10



姓名	藍雅馨	(14)	課題	奇數和偶數 1-10
班別	1 A/B/C		日期	9月30日

從報章、雜誌中剪出一些物件的圖片貼在下面適當的方格內，並用阿拉伯數字寫出物件的數量。

奇數	偶數
 3 ✓  9 ✓  1 ✓  5 ✓  7 ✓	例子：  6  4 ✓  2 ✓  8 ✓  10 ✓  6 ✓

互相評一評：

評估項目	同學互評			教師評分
	有待改善	表現一般	表現滿意	
知識	1. 能夠數出物件正確的數量。	☺	☺☺	☺☺☺
	2. 能夠分辨奇數和偶數。	☺	☺☺	☺☺☺
技能和態度	1. 能夠適當地搜集所需資料	☺	☺☺	☺☺☺
	2. 能夠有條理地作記錄	☺	☺☺	☺☺☺
		同學簽署：張浩庭		批改日期： 5/10

